

數 1 10 以內的數 P.4

數 2 數的基本組合 (1 — 10) P.6

數 3 基本加法和減法 P.8

圖形與空間 4 立體圖形 P.10

數 5 20 以內的數 P.12

數 6 數的基本組合 (11 — 18) P.14

數 7 數物和次序 P.16

數 8 18 以內的加法和減法 P.18

度量 9 長度和距離 P.20

圖形與空間 10 直線和曲線 P.22

數學難點・明辨是非 (一) P.24

測試站 (一) (練習 1 至 10) P.26

11 100 以內的數 P.30

12 每 2、5 和 10 個一數 P.32

13 報時 P.34

14 日期 P.36

15 加法 P.38

16 加與減 P.40

17 本港的硬幣 P.42

18 長度的量度 P.44

19 平面圖形 (一) P.46

20 平面圖形 (二) P.48

數學難點・明辨是非 (二) P.50

測試站 (二) (練習 11 至 20) P.52

評估終點站 (練習 1 至 20) P.56

升級齊闖關 P.62



數學難點 • 明辨是非(一)

樣本



練習 1 10以內的數

常犯錯誤：未能依規律把數排列起來

例 依規律，填一填。

7、6、5、6、7 ❌

正確答案

找規律時，不要只根據答案前的單一個數（「5」）來推斷。
細心觀察題目提供的所有數，「7、6、5」是倒數，因此應該以倒數填寫餘下的數。



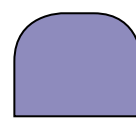
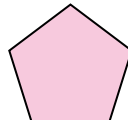


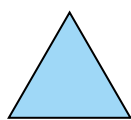
7、6、5、4、3




練習 7 數物和次序


常犯錯誤：誤以為排列次序必定由左面開始數起

例



第一

上圖中， 排第幾？

 排第 三。 ❌

正確答案



排第一，應由右面數起。


由右面數起， 排第四。




在  內填上答案的代表字母。(每題 2 分，共 16 分。)

1. 以下哪一碟中  的數量最多？


A.




B.



C.



D.



2. 以下哪一項是正確的？

A. 3 和 6 是 7。

B. 4 和 5 是 8。

C. 6 可分成 4 和 2。

D. 9 可分成 4 和 4。



3. 妹妹有 3 頂帽子。她把一條頸巾借給姊姊後，還餘帽子多少頂？

A. 0

B. 2

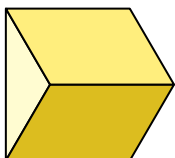
C. 3

D. 4




4. 以下哪一個立體是錐體？

A.



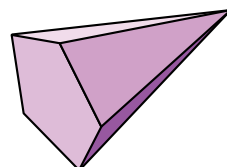
B.

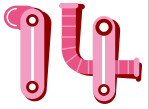


C.



D.





依照月曆，填一填。

四月 2018						
星期日	星期一	星期二	星期三	星期四	星期五	星期六
1	2	3	4	5	6	7
8					13	14
15	16	17	18	19	20	21
22	23	24	25	26	27	28
29	30					
復活節	參觀天文台		露營活動			


- 在月曆上填上缺去的日子。
- 露營活動在 4 月 _____ 日開始，這天是星期 _____。
- 美怡在 4 月的第 _____ 個星期一參觀天文台。



以下是科學館的立體影院在這星期各天上映的主題電影。

星期日	星期一	星期二	星期三	星期四	星期五	星期六
 火星客	 恐龍王	 海洋國	 低碳達人	 明日科技	休館	 恐龍王

- 星期 _____ 和星期 _____ 的主題電影都是恐龍王。
- 科學館在星期 _____ 休館。
- 如果今天是星期二，明天上映的主題電影是
* 低碳達人 / 明日科技 / 海洋國 。(* 圈出答案)



STEM 體驗題

7.

6月	2018年					
日	一	二	三	四	五	六
					1	2
3	4	5	6	7	8	9
10	11	12	13	14	15	16
17	18	19	20	21	22	23
24	25	26	27	28	29	30

聯合國把每年的6月5日定為「世界環境日」，各國政府及機構都會在這一天舉辦不同的活動宣揚保護及改善環境的重要性。

氣候變化是全球各地必須關注的議題，我們應該珍惜現有的資源，節約能源。

小知識

2018 年的世界環境日是星期 _____。



在  內填上答案的代表字母。

8. 每個星期的第一天是星期幾？

- A. 星期一 B. 星期五 C. 星期六 D. 星期日



9. 如果昨天是星期三，後天是星期幾？

- A. 星期二 B. 星期四
C. 星期五 D. 星期六

列表法

列出一星期的各天，協助解題。

日	一	二	三	四	五	六
			昨天			



小偉和家人在 8 月 15 日開始到澳洲旅行六天。

10. 小偉和家人在旅行的第四天參觀悉尼歌劇院，
那天是 _____ — _____ — 2018。



11. 小偉和家人出發旅行的第一天是星期二，旅行的最後一天是星期 _____。



旅行的最後一天是第一天的多少天後？

解題短片



互動短測



在  內填上答案的代表字母。(每題 2 分，共 20 分。)

1. 以下哪一個數比 4 大，又比 7 小？

- A. 4
- B. 6
- C. 7
- D. 8



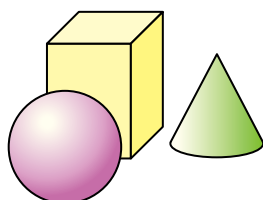
2. 以下哪一項是 16 的組合？

- A. 7 和 8
- B. 8 和 6
- C. 9 和 7
- D. 9 和 8

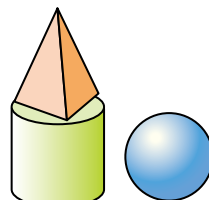


3. 以你看圖的方向，以下哪一組立體圖形中，錐體在柱體的右面？

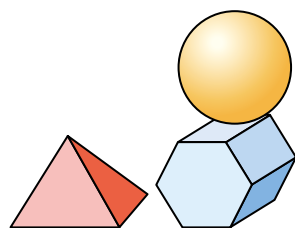
A.



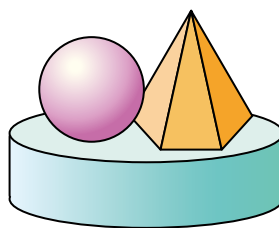
B.



C.



D.



4. 在 13 至 19 之內，共有多少個雙數？

- A. 2 個
- B. 3 個
- C. 4 個
- D. 5 個



與小傑和他的朋友
一起去嘉年華會遊
玩吧!

開始

今天是本星期
的第一天。今
天是哪一天?

星期一

星期日

小傑購買了 76 個代幣，
小歡購買了 81 個代幣。
誰購買的代幣較多?

小歡

小傑

投籃機在報告入球數量：
「15、16、17、18」
這是順數還是倒數?

倒數

順數

有 11 名男孩和 10 名
女孩在玩旋轉木馬。
男孩和女孩相差多少
人?

21

1

雙數

紅色碰碰車的數
量是一個單數還
是雙數?

單數

10

小傑打算購買小食時，
發現他只餘下一個銀
色硬幣，他最多有多
少元?

5

右面

粉紅色柱體帳篷在藍
白色柱體帳篷的左面。藍
白色柱體帳篷在錐體帳
篷的哪一面?

左面

2

寶箱上有四邊形圖案的
便是大獎。小傑應選擇
哪一個號碼的寶箱?

1

紅色

小霞和小新在遊玩
摩天輪。哪一顏色
的車卡距離地面較
高?

藍色