

目錄

2上

練習		頁次
1.	三位數的認識	2
2.	加法（一）	4
3.	加法（二）	6
4.	米和厘米	8
5.	角的認識	10
6.	減法（一）	12
7.	減法（二）	14
8.	加減應用題	16
9.	立體圖形 <small>1上課題複習</small>	18
10.	柱體	20
11.	錐體	22
綜合練習 1		24
12.	認識乘法	28
13.	2、5和10的乘法	30
14.	4和8的乘法	32
15.	3和6的乘法	34
16.	7和9的乘法	36
17.	奇妙的乘法	38
18.	乘法應用題	40
19.	報時	42
20.	一天的認識	44
21.	年、月、日	45
22.	直線和曲線 <small>1上課題複習</small>	47
綜合練習 2		48
23.	數數活動 <small>提升練習</small>	52

學習重點：1. 計算兩位數的退位減法及連減法。

2. 解答減法應用題。

解題技巧：用直式計算連減法與計算連加法不同，計算連減法必須分兩個步驟計算。

列式計算下列各題。(每題 3 分)

⑫ 快餐店售出了漢堡包 83 個和熱狗 79 個，漢堡包比熱狗多售出多少個？

⑬ 媽媽買了右面的曲奇餅回家，爸爸吃了曲奇餅 15 塊後，還餘多少塊？



⑭ 浩明付 50 元購買右圖中的小型電風扇 2 把，應找回多少元？

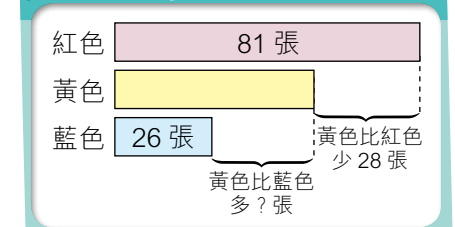


\$16

⑮ 思思的黃色手工紙比紅色手工紙少 28 張，黃色手工紙比藍色手工紙多多少張？

思思各種顏色手工紙的數量		
紅色手工紙	黃色手工紙	藍色手工紙
81 張	? 張	26 張

圖 像 解 難



成績：

日期：

計算下列各題。(每題 1 分)

①

$$\begin{array}{r} 173 \\ + 429 \\ \hline \end{array}$$

②

$$\begin{array}{r} 82 \\ - 35 \\ \hline \end{array}$$

③

$$\begin{array}{r} 203 \\ 394 \\ + 65 \\ \hline \end{array}$$

④

$$\begin{array}{r} 429 \\ 235 \\ + 219 \\ \hline \end{array}$$

⑤

$$\begin{array}{r} 96 \\ - 43 \\ \hline \\ - 28 \\ \hline \end{array}$$

⑥

$$\begin{array}{r} 70 \\ - 15 \\ \hline \\ - 36 \\ \hline \end{array}$$

⑦ $582 + 165 =$ _____

⑧ $277 + 248 =$ _____

⑨ $41 - 15 =$ _____

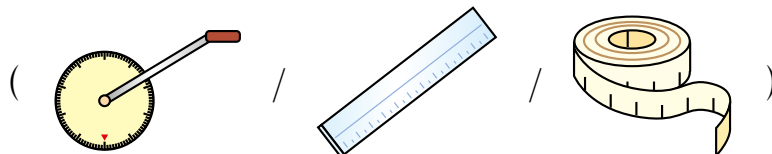

⑩ $73 - 37 =$ _____

⑪ $153 + 482 + 354 =$ _____


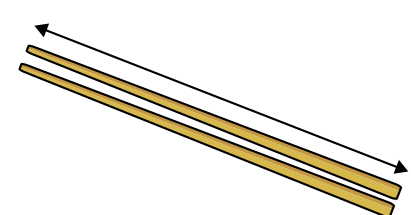
⑫ $63 - 28 - 17 =$ _____

圈出最適合量度以下長度的工具。(每題 1 分)

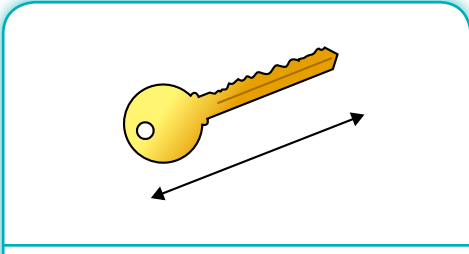
⑬

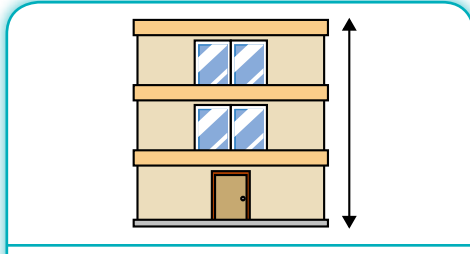


⑭



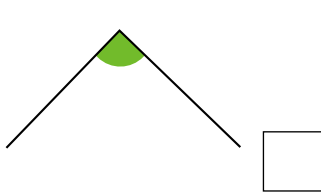
為下列各圖中所示的長度選出合理的值，圈出正確的答案。(每題 1 分)

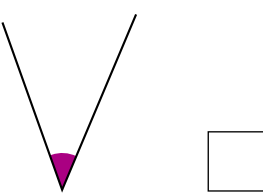
⑮ 
 (5 cm / 50 cm / 5 m)

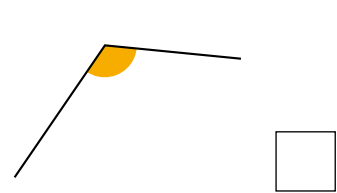
⑯ 
 (8 cm / 80 cm / 8 m)

在 內填上答案的代表字母。(每題 1 分)

A. 直角 B. 比直角大的角 C. 比直角小的角

⑰ 

⑱ 

⑲ 

完成下列各題。(每題 1 分)

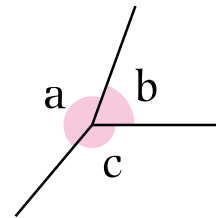
⑳ 469 讀作 _____。

㉑ 用 3, 6, 9 組成最大的三位數是 _____。

㉒ 用 0, 5, 8 組成最小的三位數是 _____。

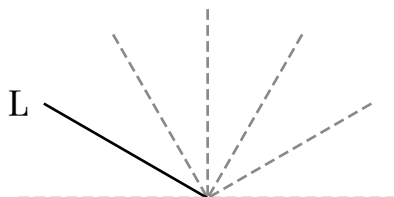
㉓ 把 a、b 和 c 三個角由大至小排列出來。

答案：_____，_____，_____。
 (最大) (最小)

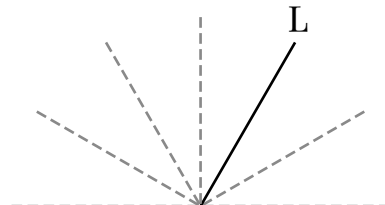


在下列各題中沿着虛線畫出一條直線，使它與直線 L 形成指定的角。(每題 1 分)


㉔ 比直角大的角



㉕ 直角

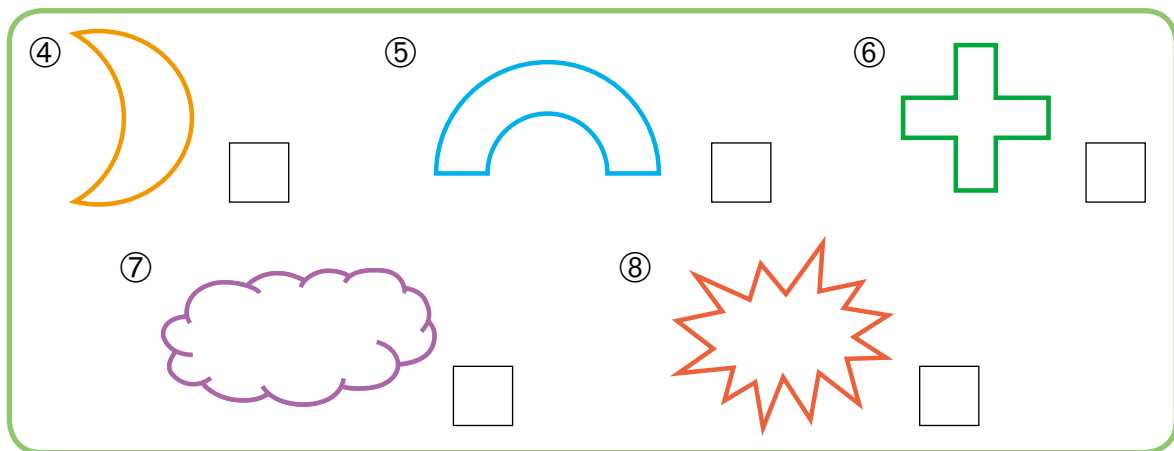


老師在黑板上寫了一些英文字母，回答下列各題。(每題1分)



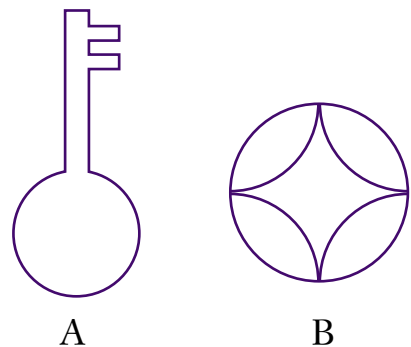
- ① 哪些英文字母是只由直線組成？ _____
- ② 哪些英文字母是只由曲線組成？ _____
- ③ 哪些英文字母是由直線和曲線組成？ _____

在以下各圖中，只由直線組成的，在 內加 ✓；只由曲線組成的加 ○；由直線和曲線組成的加 △。(每題1分)



觀察下面各平面圖形，完成下列各題。(每條分題1分)






- ⑨ (a) 圖形 A 中有 * 直線 / 曲線。
(* 圈出所有答案)
- (b) 圖形 B 中有 * 直線 / 曲線。
(* 圈出所有答案)



學習重點：學習每 50 個、100 個一數。

數數看。(每題 1 分)

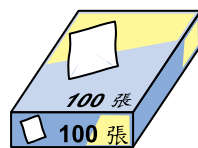
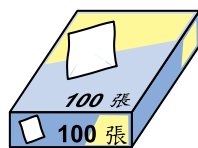
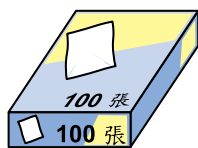
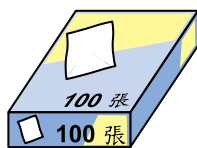
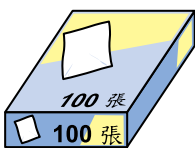
①



50

共有糖果 _____ 粒。

②



100

共有畫紙 _____ 張。

依規律填上缺去的數。(每題 1 分)

③ 400, 450, 500, _____, _____, _____, 700

④ 300, _____, _____, _____, 700, 800, 900

⑤ 950, 900, _____, _____, 750, 700, _____

⑥ 700, _____, 500, _____, 300, _____, 100

完成下列各題。(每題 1 分)

⑦ 1 箱奇異果有 50 個, 2 箱奇異果有 _____ 個, 6 箱奇異果有 _____ 個。

⑧ 1 包牙簽有 100 枝, 2 包牙簽有 _____ 枝, 8 包牙簽有 _____ 枝。

⑨ 1 疊手工紙有 100 張, _____ 疊手工紙有 500 張。

⑩ 1 箱汽水有 50 罐, _____ 箱汽水有 350 罐。