

練習	課題	頁次
<b>上學期</b>		
1	五位數的認識	2
2	加法 <small>複習</small>	4
3	加法應用題 <small>複習</small>	6
4	減法 <small>複習</small>	8
5	減法應用題 <small>複習</small>	10
6	長度和距離 <small>複習</small>	12
7	毫米和公里	14
8	乘法複習 <small>複習</small>	16
9	乘法（一）	18
10	乘法（二）	20
11	除法複習	22
12	除法（一）	24
13	除法（二）	26
14	貨幣 <small>複習</small>	28
15	貨幣應用題	30
16	年、月、日和星期 <small>複習</small>	31
17	時和分 <small>複習</small>	33
18	秒	35
19	平行和垂直	37
20	平面圖形 <small>複習</small>	39
21	平行四邊形	41
<b>下學期</b>		
22	加減混合計算 <small>複習</small>	43
23	括號的認識	44
24	乘加混合計算	46
25	乘減混合計算	48
26	加、減、乘混合計算	50
27	加、減、乘混合計算應用題	52

練習	課題	頁次
28	24 小時報時制	54
29	直線和曲線 <small>複習</small>	56
30	立體圖形 <small>複習</small>	57
31	角和直角 <small>複習</small>	59
32	四個主要方向 <small>複習</small>	60
33	三角形（一）	62
34	三角形（二）	64
35	分數（一）	66
36	分數（二）	68
37	分數的比較	70
38	重量 <small>複習</small>	72
39	容量的認識	74
40	升和毫升	76
41	象形圖 <small>複習</small>	78

## 附件

- 強化練習 1
- 強化練習 2
- 強化練習 3
- 強化練習 4
- 模擬試卷
- 答案

根據數字在算柱上畫算珠，並在 \_\_\_\_\_ 上填上五位數的讀法。(每條分題 1 分)

① (a)

萬	千	百	十	個
7	8	9	3	4

② (a)

萬	千	百	十	個
2	0	6	2	4

(b) \_\_\_\_\_

(b) \_\_\_\_\_

根據算柱，在 \_\_\_\_\_ 上填上答案。(每條分題 1 分)

③

萬	千	百	十	個
4	6	5	3	2

(a) 算柱代表的數寫作 \_\_\_\_\_，  
讀作 \_\_\_\_\_。

(b) 萬位數字是 \_\_\_\_\_，表示的數值是 \_\_\_\_\_。

(c) 千位數字是 \_\_\_\_\_，表示的數值是 \_\_\_\_\_。

(d) 個位數字是 \_\_\_\_\_，表示的數值是 \_\_\_\_\_。

在  內填上適當的數字。(每題 1 分)

④  $73\ 124 = \text{} + 3000 + 100 + \text{} + \text{$

⑤  $15\ 648 = \text{} + \text{} + \text{} + 40 + 8$

⑥  $24\ 016 = \text{} + 4000 + \text{} + \text{} + \text{$

⑦  $91\ 870 = \text{} + \text{} + 800 + \text{} + \text{$

⑧  $65\ 002 = \text{} + 5000 + \text{} + \text{} + \text{$



回答下列各題。(每題 1 分)

- ① 大眾小學有女生 352 人，比男生少 39 人，大眾小學共有男生 \_\_\_\_\_ 人。
- ② 電影院昨天日場售出門票 432 張，夜場售出 518 張，電影院昨天共售出門票 \_\_\_\_\_ 張。
- ③ 哥哥原有銀行存款 650 元，上月存入 164 元，他現有銀行存款 \_\_\_\_\_ 元。
- ④ 紅絲帶長 312 厘米，黃絲帶比紅絲帶長 154 厘米，兩條絲帶共長 \_\_\_\_\_ 厘米。
- ⑤ 領帶一條售 116 元，外套比領帶貴 158 元，爸爸買了一件外套和一條領帶，共需付 \_\_\_\_\_ 元。
- ⑥ 志傑買了三包糖，蘋果糖重 243 克，橙汁糖重 426 克，檸檬糖重 89 克，三包糖共重 \_\_\_\_\_ 克。

## 失分提示

學生需小心閱題，先找出黃絲帶的長度。

根據以下的資料，回答下列各題。(每條分題 1 分)

課外活動	少年警訊	公益少年團	童軍
參加人數	327 人	256 人	214 人

參加以上三項課外活動的學生共有 \_\_\_\_\_ 人。

⑧



\$248



\$569



\$68

- (a) 志輝買了 1 架模型車和 1 部遊戲機，共需付 \_\_\_\_\_ 元。
- (b) 陳先生和太太合資購買了 2 隻玩具熊和 1 部遊戲機作為聖誕禮物，共需付 \_\_\_\_\_ 元。

根據以下商品的售價，圈和填。(每題 1 分，題 ⑩ 2 分)



\$572



\$638



\$325

- ⑰ 珍珠項鍊的售價和手袋的售價相差 \_\_\_\_\_ 元。
- ⑱ 心口針比手袋便宜 193 元，心口針的售價是 \_\_\_\_\_ 元。
- ⑩ 李小姐有 900 元，她購買一條裙子後，餘下的款項足夠購買一個手袋嗎？為甚麼？

答案：\* 足夠 / 不足夠 (\* 圈出答案)，因為 \_\_\_\_\_。

列式計算下列各題。(每題 3 分)

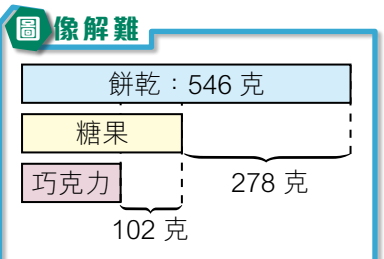
- ⑳ 國明的外套售多少元？

我的外套售 465 元，  
比國明的貴 176 元。

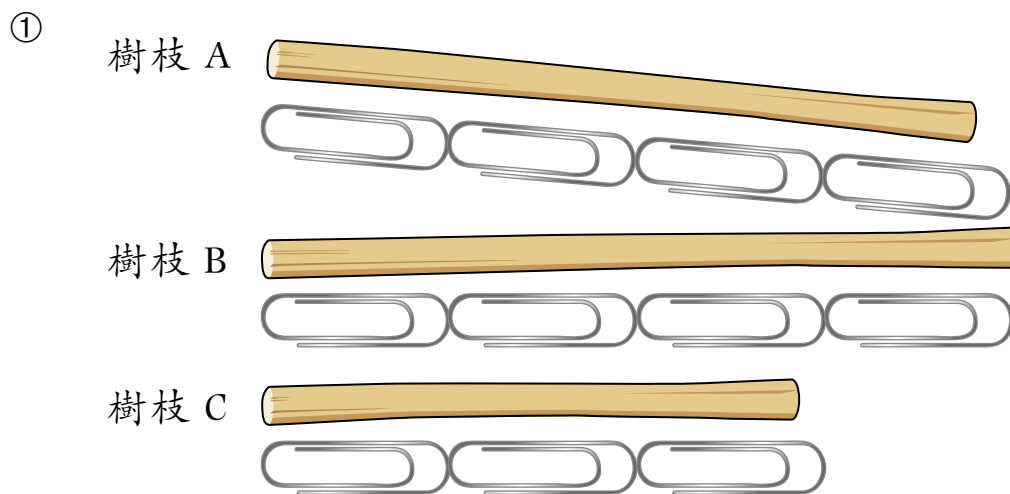


志明

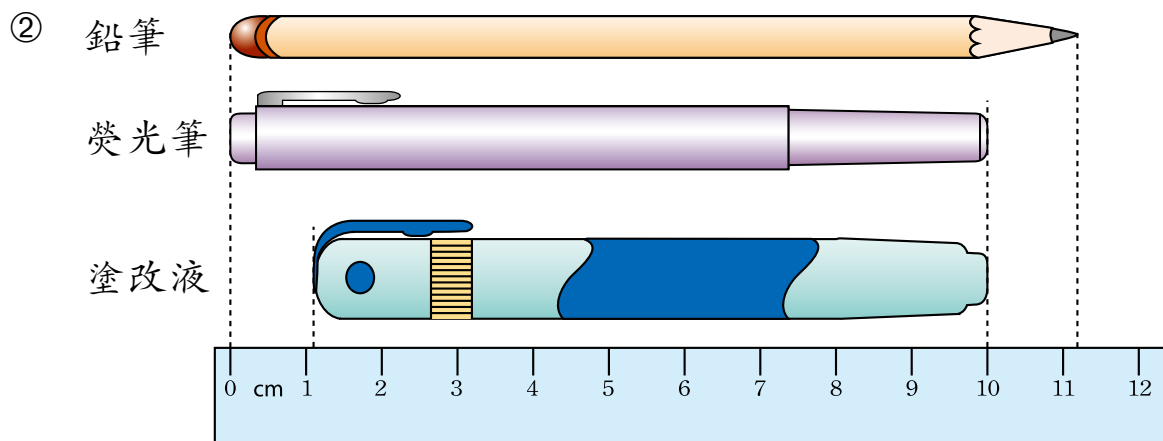
- ㉑ 一盒餅乾重 546 克，比一盒糖果重 278 克，一盒巧克力比一盒糖果輕 102 克，一盒巧克力重多少克？



根據下圖的資料，回答下列各題。(每題 1 分)

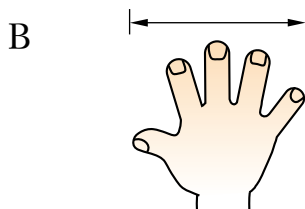
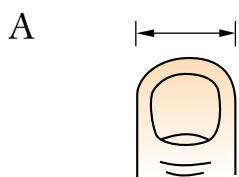


上圖中，最長的是樹枝 \* A / B / C。( \* 圈出答案)



上圖中，最短的是 \_\_\_\_\_，它的長度約是 \_\_\_\_\_ cm。

選擇合適的永備尺量度以下的長度和距離，在 \_\_\_\_\_ 上填上答案的代表字母。(每題 1 分)



- ③ 兩幢大廈之間的距離 \_\_\_\_\_ ④ 冷氣機的闊度 \_\_\_\_\_
- ⑤ 籃球場的闊度 \_\_\_\_\_ ⑥ 蠟筆的長度 \_\_\_\_\_

根據以下兒童台的節目時間表，完成下列各題。(每題 1 分)

時間	電視節目
14:45	熊貓樂園
15:30	科學世界
16:15	IQ 擂台
17:05	做手工
18:12	每日知多點

- ⑩ 熊貓樂園的播放時間是 \* 上午 / 下午 \_\_\_\_\_ 時 \_\_\_\_\_ 分。(\* 圈出答案)
- ⑪ 小精靈將會在每日知多點後播出，如果每日知多點共播放了 24 分鐘，小精靈將會在 \_\_\_\_\_ : \_\_\_\_\_ 播放。(以「24 小時報時制」表示答案)
- ⑫ 媽媽在下午四時五十分返到家中，那時兒童台正在播放 \_\_\_\_\_。

在 \_\_\_\_\_ 上填上正確的答案。(每條分題 1 分)

- ⑬ 以下是音樂會開始及結束的時間。



開始時間



結束時間

- (a) 音樂會共進行了 \_\_\_\_\_ 小時 \_\_\_\_\_ 分鐘。
- (b) 美芬在音樂會結束後 30 分鐘回到家裏，那時是 \_\_\_\_\_ 午 \_\_\_\_\_ 時 \_\_\_\_\_ 分。

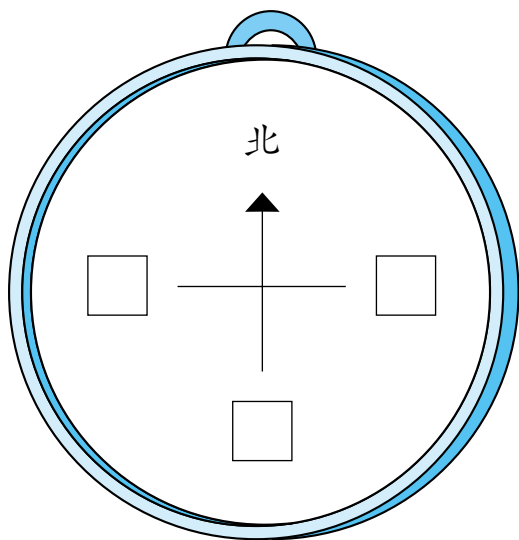
- ⑭

診所開放時間  
10:00 — 13:15  
16:00 — 20:30

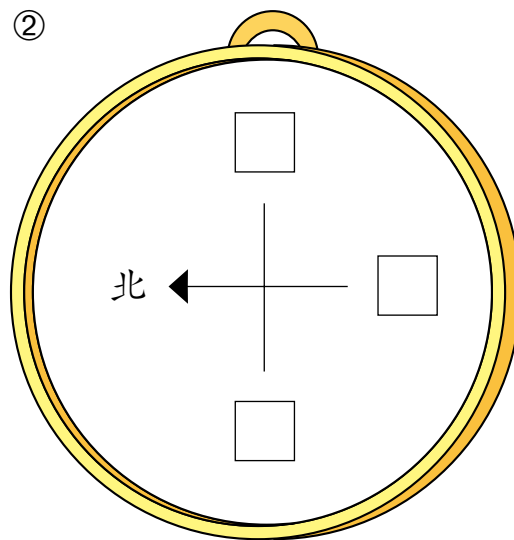
診所在下午共開放了 \_\_\_\_\_ 小時  
\_\_\_\_\_ 分鐘。

在 □ 內填上正確的方向。(每題 1 分)

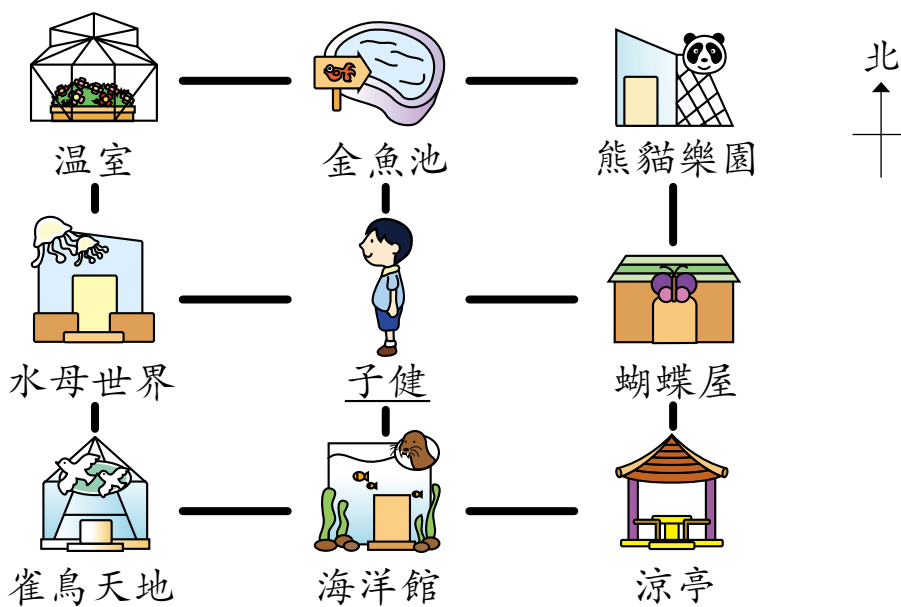
①



②



根據以下育才生態公園的平面圖，在 \_\_\_\_\_ 上填上正確的答案。(每題 1 分)




- ③ 子健現在面向 \_\_\_\_\_ 方。
- ④ 海洋館在雀鳥天地的 \_\_\_\_\_ 方。
- ⑤ 蝴蝶屋在 \_\_\_\_\_ 的北方。
- ⑥ 健輝由水母世界往 \_\_\_\_\_ 方走到溫室，然後再往 \_\_\_\_\_ 方走，便可到達金魚池。

根據象形圖，回答下列各題。(每題 1 分)

3C 班學生最喜愛吃的餅乾

每個圖案代表 1 人



夾心餅      曲奇餅      梳打餅      威化餅      水泡餅

- ① 喜愛吃哪一種餅乾的學生最多？ \_\_\_\_\_
- ② 喜愛吃曲奇餅的學生比喜愛吃梳打餅的多多少人？ \_\_\_\_\_ 人
- ③ 喜愛吃哪一種餅乾的人數是喜愛吃水泡餅的 2 倍？ \_\_\_\_\_
- ④ 3C 班舉行大食會，黃老師將預備所有喜愛人數不少於 4 人的餅乾，她會預備威化餅嗎？為甚麼？

答案：\* 會 / 不會 (\* 圈出答案)，因為 \_\_\_\_\_



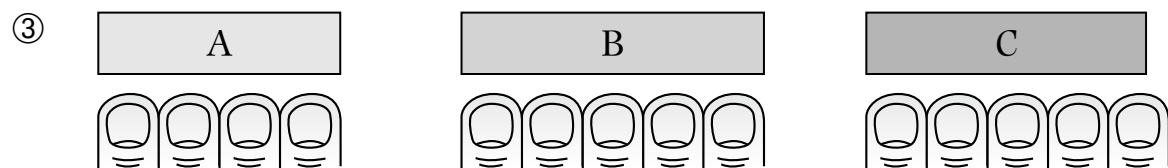
成績：\_\_\_\_\_

日期：\_\_\_\_\_

完成下列各題。(每題 1 分)

① 「二萬五千九百二十四」寫作 \_\_\_\_\_。

② 「43 121」讀作 \_\_\_\_\_。



上圖中，長方形 \_\_\_\_\_ 最長，長方形 \_\_\_\_\_ 最短。

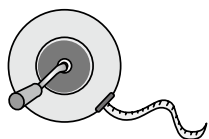
把正確答案的圓圈塗黑和塗滿。(每題 1 分)

④ 在 74 050 這個數裏，數字「4」是在


- A. 個位。       B. 十位。       C. 千位。       D. 萬位。

⑤ 以下哪一項最適合用來量度一塊膠擦  的長度？

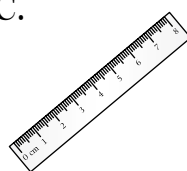
- A.                       B.                       C.                       D.



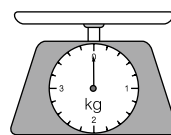
滾輪



捲尺



厘米尺



廚房磅

計算下列各題。(每題 1 分)

⑥  $156 + 275 =$  \_\_\_\_\_

⑦  $38 + 175 + 428 =$  \_\_\_\_\_

⑧  $500 - 256 =$  \_\_\_\_\_

⑨  $421 - 105 - 244 =$  \_\_\_\_\_

⑩  $8 \times 8 =$  \_\_\_\_\_

⑪  $35 \times 7 =$  \_\_\_\_\_

⑫  $5 \times 148 =$  \_\_\_\_\_

⑬  $378 \times 7 =$  \_\_\_\_\_



範疇	題號	分數
數	1 - 20	/28
度量	21 - 29	/17
圖形與空間	30 - 38	/16
數據處理	39 - 40	/7
總分		/68



請把電腦條碼貼在方格內

# 數學科系統評估綜合訓練 (升級精華版)

## 小學三年級

### 模擬試卷

學生須知：

1. 在第 1、3、5 及 7 頁的適當位置貼上電腦條碼。
2. 全卷共有 40 題，全部題目均須作答。
3. 評估時限為 40 分鐘。
4. 答案必須書寫在答題簿中適當的位置內。
5. 不得在框線以外書寫任何文字、符號。
6. 不得使用計算機。
7. 算草應做在草稿紙上。
8. 在下面填寫學生姓名、班別及班號。

作答說明：

- (a) 選擇題 — 選出正確的答案，並用 HB 鉛筆把該選項的圓圈塗黑和塗滿。如：
- A
  - B
  - C
  - D
- (b) 列式計算題 — 在方格內列寫橫式、答案、文字解說或題解，但毋須列寫算草。
- (c) 其他類型題目 — 依題目的指示，在適當的位置作答。

學生姓名：\_\_\_\_\_ 班別：\_\_\_\_\_ 班號：\_\_\_\_\_

1. 在 72 491 這個數裏，數字「1」是在

- A. 個位。
- B. 十位。
- C. 千位。
- D. 萬位。

2. 把三個五位數由小至大排列如下：

63 050, , 65 300  
(最小) (最大)

以下哪一個可能是空格裏的數？

- A. 60 530
- B. 63 005
- C. 63 500
- D. 65 603

3. 用阿拉伯數字寫出「五萬八千零二十」這個數。

答案： \_\_\_\_\_

4.  $134 + 269 =$  \_\_\_\_\_

5.  $938 - 576 =$  \_\_\_\_\_