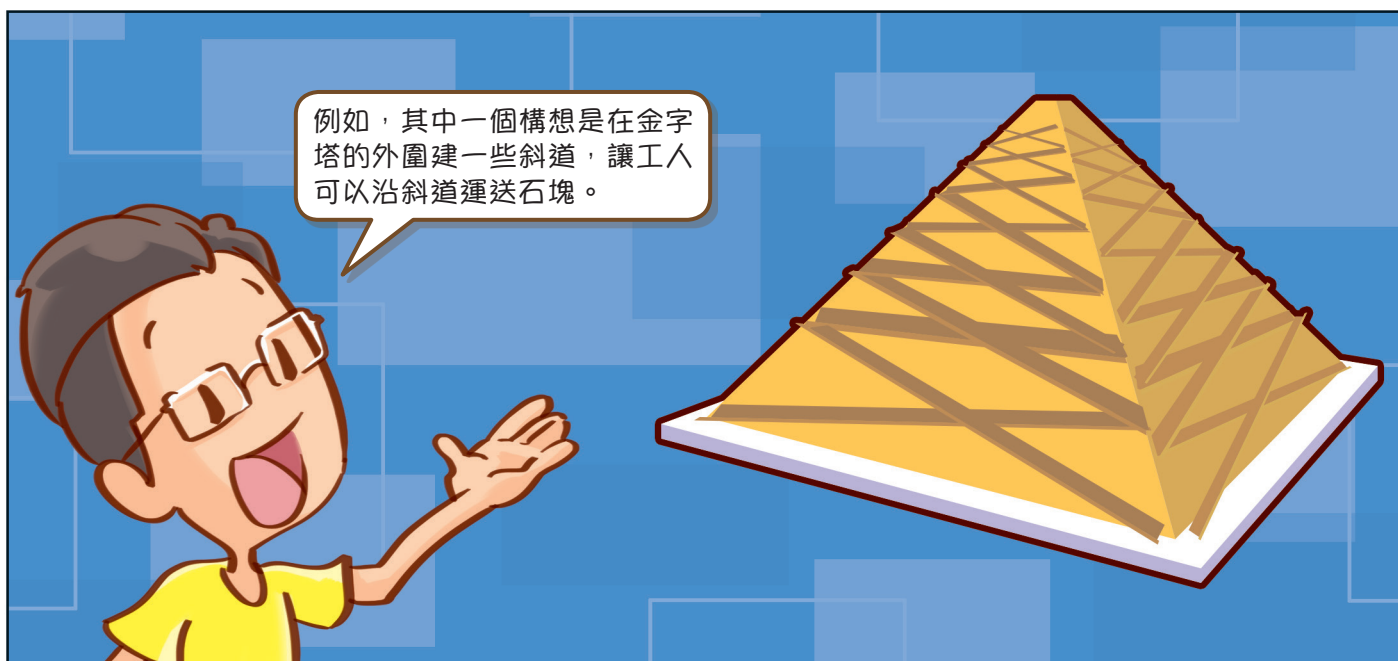
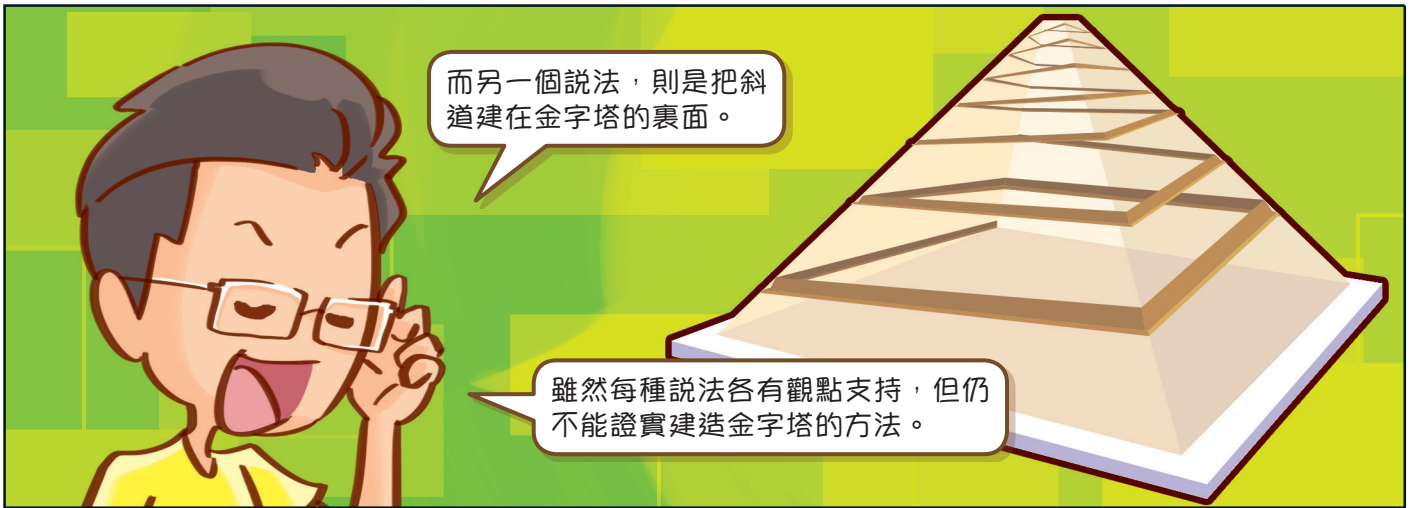




目錄

漫畫數學		2
1	三位數	4
2	每 50、100 個一數	6
3	加法 (一)	8
4	加法 (二)	10
複習 (一) * * * * *		12
5	米和厘米	14
6	角和直角	16
7	減法	18
8	柱體和錐體	20
9	乘法的認識	22
複習 (二) * * * * *		24
漫畫數學		26
10	2、5 和 10 的乘法	28
11	4 和 8 的乘法	30
12	報時	32
13	一天的時間	34
複習 (三) * * * * *		36
14	有趣的乘法	38
15	3 和 6 的乘法	40
16	7 和 9 的乘法	42
17	0 和 1 的乘法	44
18	年、月、日	46
總複習 * * * * *		48
數學競技場		52
中英對照詞彙表		54





4

加法 (二)



溫習樂園

179 約是 00。 → $179 + 285 + 108 = \underline{\hspace{2cm}}$

108 約是 00。

285 約是 00。

計算後，可作估算，看看答案是否合理。

估算
 答案約是： + + =



計算下列各題。

1.

3	6	2
+	1	4
9		
<hr/>		
<input style="width: 100px; height: 30px;" type="text"/>		

2.

2	8	4
+	1	5
8		
<hr/>		
<input style="width: 100px; height: 30px;" type="text"/>		

3.

2	9	5
2	7	4
+	3	5
9		
<hr/>		
<input style="width: 100px; height: 30px;" type="text"/>		

4. $456 + 275 = \underline{\hspace{2cm}}$

5. $206 + 395 + 281 = \underline{\hspace{2cm}}$

6. $588 + 319 = \underline{\hspace{2cm}}$

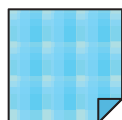

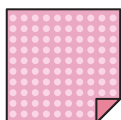
7. $187 + 299 + 348 = \underline{\hspace{2cm}}$

李老師預備了手工紙給同學們摺紙。

8. 李老師預備了 和 共 張。

9. 比 多 24 張， 有 張。

10. 圈出數量最少的手工紙：



178 張

246 張



日期：_____

分數：_____

標本

 在  內填上答案的代表字母。

11. 哥哥購買一件右面的外套後，店員給他找回 314 元，他付了多少元？

A. 600 元

B. 500 元

C. 400 元

D. 128 元



\$186



 12. 下列哪一道算式的計算結果最接近 600 ？

A. $278 + 384$

B. $309 + 399$

C. $208 + 188 + 191$

D. $126 + 249 + 390$




 列式計算下列各題。

13. 圖書館有英文書 428 本，比中文書少 293 本，圖書館有中文書多少本？

有中文書：



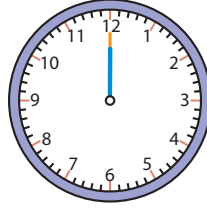

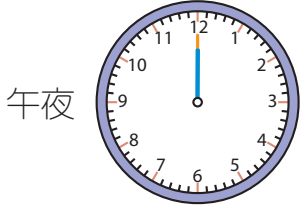
 14. 小丑上午送出氣球 226 個，下午比上午多送出 198 個，全日共送出氣球多少個？





溫習樂園

_____ 午共有 _____ 小時，時針走了 _____ 大格。



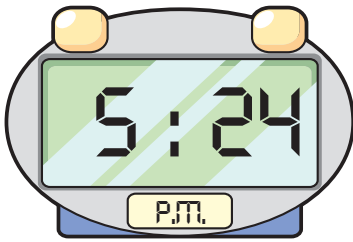
一天共有 24 小時。



_____ 午共有 _____ 小時，時針走了 _____ 大格。

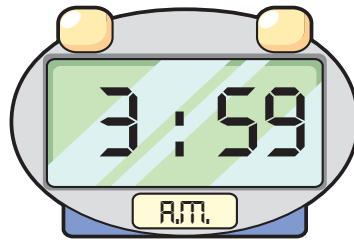
在 _____ 上填上數字鐘或時鐘顯示的時間。

1.




_____ 午 _____ 時 _____ 分

2.



_____ 午 _____ 時 _____ 分

3.



_____ 午 _____ 時 _____ 分

在 內填上答案的代表字母。

4. 繪畫班開始的時間是 ，每節 45 分鐘。志美參加了兩節連續的繪畫班，以下哪一個是結束的時間？



5. 爸爸在 9:20 a.m. 到達辦公室，在 12:30 p.m. 外出一小時後再回辦公室工作，直至 5:40 p.m.。他在辦公室共逗留了多少時間？

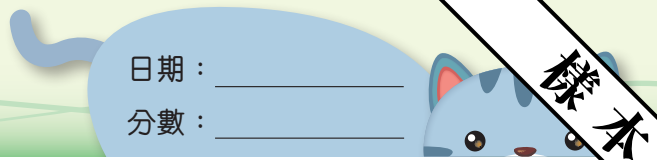

A. 8 小時 20 分鐘

B. 7 小時 40 分鐘

C. 7 小時 20 分鐘

D. 8 小時 40 分鐘





日期：_____

分數：_____

標本

在 _____ 上填上答案，並在鐘面加上時針和分針，表示指定時間。

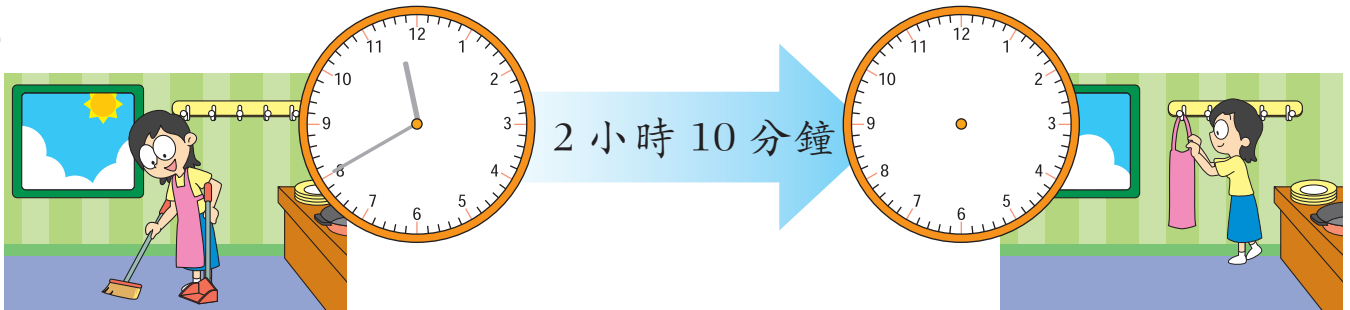
6.



_____ 午 _____ 時 _____ 分

_____ 午 _____ 時 _____ 分

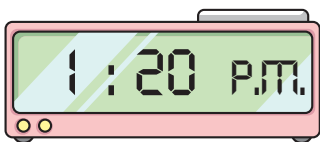
7.



_____ 午 _____ 時 _____ 分

_____ 午 _____ 時 _____ 分

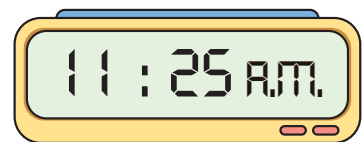
以下是三個興趣班在星期六開始上課的時間。



手工藝班



書法班



游泳班

8. 最先開始上課的興趣班是 _____ 班，在 _____ 午 _____ 時 _____ 分開始。
9. 一課游泳班共長 1 小時 10 分鐘，游泳班在 _____ 午 _____ 時 _____ 分結束。
10. 手工藝班在 _____ 午 _____ 時 _____ 分開始上課，在下午 2 時 5 分結束，一課手工藝班長 _____ 小時 _____ 分鐘。



複習 (三)

計算下列各題。

1. $5 \times 8 =$ _____

2. $4 \times 7 =$ _____

3. $10 \times 6 =$ _____

4. $8 \times 9 =$ _____

5.

	2
×	8


6.

	5
×	9

7.

	4
×	4

以下的數字鐘顯示了花車巡遊表演的時間。



8. 花車巡遊表演在何時開始？

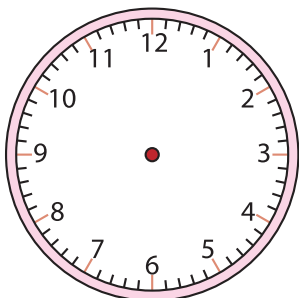
花車巡遊表演在 _____ 午 _____ 時 _____ 分開始。

9. 花車巡遊共表演了多久？

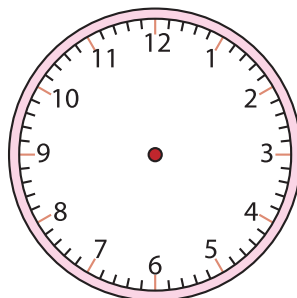
花車巡遊共表演了 _____ 小時 _____ 分鐘。

在鐘面上畫出時針和分針，表示指定的時間。

10. 7時30分



11. 2時53分



 在  內填上答案的代表字母。

12. 爸爸可能在以下哪一個時間吃早餐？



13. 做 10 塊曲奇餅要用雞蛋 2 隻。媽媽做了 30 塊曲奇餅，共用了雞蛋多少隻？

A. 2 隻

B. 4 隻

C. 6 隻

D. 8 隻




 列式計算下列各題。

14. 大型商場內有一個雪人玩偶高 2 米，旁邊有一棵巨型聖誕樹的高度是雪人玩偶的 5 倍，這棵聖誕樹高多少米？



15. 外公點了燒賣和小籠包各 2 籠，即有燒賣多少粒？



16. 家具店工人每天可造椅子 5 張，一星期共可造椅子多少張？





總複習

計算下列各題。

1. $2 \times 10 =$ _____

2. $0 \times 8 =$ _____

3. $9 \times 1 =$ _____

4. $1 \times 6 =$ _____

5. $82 - 46 =$ _____

6. $273 + 349 =$ _____

7. _____ $\times 8 = 8 \times$ _____ $= 48$

在 內填上答案的代表字母。

8. 以下哪一組數是由小至大排列？

A. 253, 235, 286

B. 395, 385, 355

C. 538, 548, 583

D. 640, 690, 604



9. 芝士腸每串有 3 條，弟弟吃了 2 串，哥哥吃了 3 串，哥哥共吃了芝士腸多少條？

A. 3 條

B. 5 條

C. 6 條


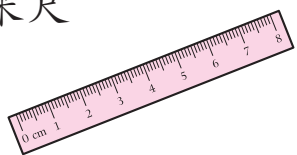
D. 9 條



10. 以下哪一種工具最適合用來量度羽毛球場的長度？

A. 厘米尺

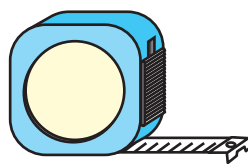
B. 滾輪



C. 軟尺



D. 拉尺



11. 以下哪一個月是月小？

A. 四月

B. 五月

C. 八月

D. 十二月



日期：_____

分數：_____

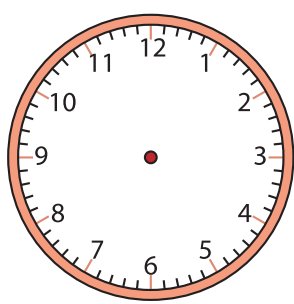
 根據下面的月曆，完成下列各題。

月						
日	一	二	三	四	五	六
	1	2	3	4	5	6
7	8	9	10	11	12	13
14	15	16	17	18	19	20
21	22	23	24	25	26	27
28	29					

- 12. 以上是 _____ 月的月曆。
- 13. 這個月的第十天是星期 _____。
- 14. 這一年是 * 平年 / 閏年。 * 圈出答案
- 15. 下一個月的第一個星期五是 _____ 月 _____ 日。

 妹妹在下午 3 時 15 分開始看故事書。

16. 在以下的鐘面上加畫時針和分針，表示妹妹開始看故事書的時間。



- 17. 妹妹用了 38 分鐘看完這本故事書，她在甚麼時候看完？
妹妹在 _____ 午 _____ 時 _____ 分看完這本故事書。
- 18. 妹妹看完故事書後，在 3 時 55 分開始做家課，在 5 時 18 分把家課做完。妹妹做家課用了 _____ 小時 _____ 分鐘。



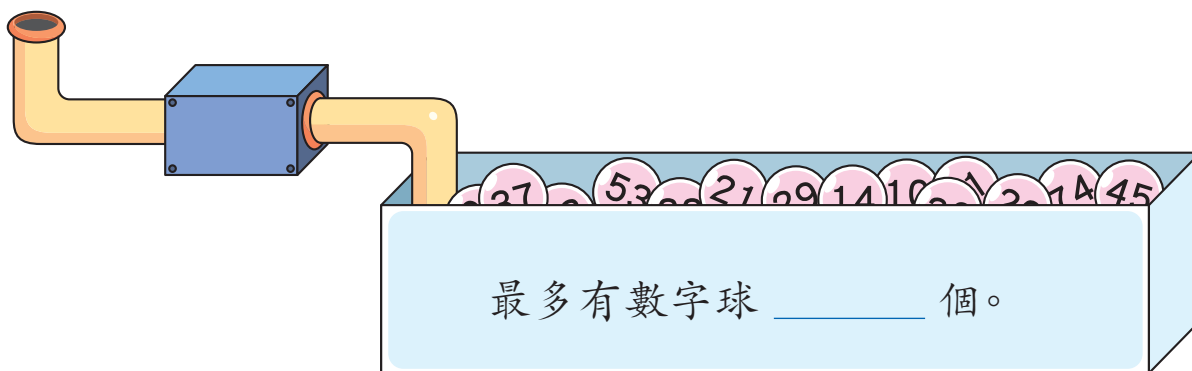
1.



(a) 用上圖的四張數卡可組成 _____ 個比五百小的三位數。

(b) 以上組成的數中，最大和最小的數之和是 _____。

2. 以下的機器製造了一些兩位數的數字球，它們的個位和十位數字不同，所有數字球沒有重複。



3. 下面是本月的月曆，但只看到小部分。

日	一	二	三	四	五	六
4	5					
11	12					

(a) 上月 27 日是星期一，上月有 _____ 天，是 _____ 月。

(b) 本月的最後一天是 _____ 日，是星期 _____。

(c) 下月的第一個星期三是 _____ 月 _____ 日。



中英對照詞彙表

樣本

中文	英文	頁碼
三位數	3-digit number	4
百位	hundreds place	4
十位	tens place	4
個位	units place	4
規律	pattern	6
加法	addition	8
進位	carrying	8
估算	estimation	10
米	metre	14
厘米	centimetre	14
長度	length	14
高度	height	14
距離	distance	14
角	angle	16
直角	right angle	16
直線	straight line	17
減法	subtraction	18
退位	decomposition	18