




1	數數 (1 - 10)	2
2	順數和倒數 (1 - 10)	4
3	單數和雙數 (1 - 10)	6
4	數的基本組合 (1 - 10)	8
複習 (一)		10
5	基本加法	12
6	基本減法	14
7	0 的認識	16
8	立體圖形	18
9	數數 (11 - 20)	20
複習 (二)		22
10	順數和倒數 (1 - 20)	24
11	單數和雙數 (1 - 20)	26
12	數的基本組合 (11 - 18)	28
13	數物和次序	30
複習 (三)		32
14	18 以內的加法	34
15	18 以內的減法	36
16	有趣的加法	38
17	長度和距離	40
18	直線和曲線	42
總複習		44
數學競技場		48
中英對照詞彙表		50


9







數數 (11 — 20)



上圖有  _____ 顆。

數一數，填和圈。




1. 有  _____ 個，  _____ 個和  _____ 個。
2. ( /  / ) 的數量最多。



完成下列各題。

3. 把編號比 11 大的花塗色。



 4. 在空格內填上適當的數。

- (a) 比 15 大，又比 17 小。
- (b) 比 20 小，又比 18 大。

在 內填上答案的代表字母。

5. 以下哪一項是不正確的？

- A. $20 > 16$ B. $10 < 13$ C. $17 < 19$ D. $9 > 11$




6. 媽媽買了一些雞蛋，數量比一打多，但比 20 隻少，她可能買了雞蛋多少隻？

- A. 20 隻 B. 18 隻 C. 12 隻 D. 6 隻




以下是玩具店的貨架。



7. 下層共有玩具 _____ 個。

8. 上層有  _____ 個，比下層的  * 多 / 少。 * 圈出答案

9. 以下哪一項是正確的？ 填上字母

- A. 比較三款玩具， 的總數最多。
- B. 比較三款玩具， 的總數最少。
- C. 比較三層貨架，中層的玩具數量最多。
- D. 上層共有玩具 11 個。



 10. 玩具店有  的數量比  的多，又比  的少。
玩具店可能有  _____ 個。

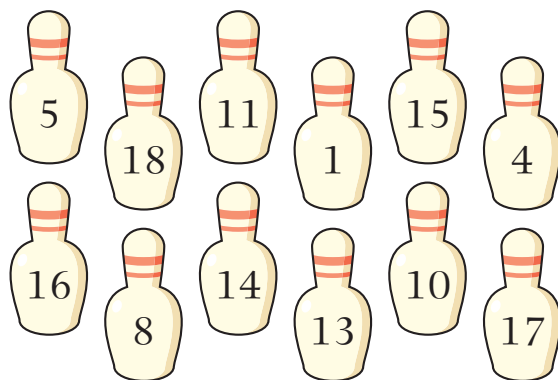


複習 (三)

看看右圖，回答下列各題。


1. 由大至小寫出右圖中所有單數。

2. 由小至大寫出右圖中所有雙數。



依圖意，填一填。

3.




$7 + \underline{\quad\quad} = \underline{\quad\quad}$

$5 + \underline{\quad\quad} = \underline{\quad\quad}$

$\underline{\quad\quad} - 5 = \underline{\quad\quad}$

$\underline{\quad\quad} - 7 = \underline{\quad\quad}$

4.



$8 + \underline{\quad\quad} = \underline{\quad\quad}$

$\underline{\quad\quad} - 8 = \underline{\quad\quad}$

在 內填上適當的數。

5. 4 和 是 13。

6. 17 取去 還有 9。

7. 和 8 是 15。



8. 取去 6 還有 8。

在  內填上答案的代表字母。

👑 9. 以下哪一組數是倒數？

- A. 17, 15, 16, 13, 14 B. 9, 8, 7, 10, 11
C. 12, 11, 10, 9, 8 D. 14, 15, 16, 17, 18



👑 10. 如果  是一個比 13 大，又比 19 小的單數，以下哪一個可能是  代表的數？

- A. 11 B. 12 C. 14 D. 15



👉 11. 子文 在車站排隊等候巴士，隊中共有 9 人，而 子文 的後面有 5 人，他排第幾？

- A. 第三 B. 第四 C. 第五 D. 第六

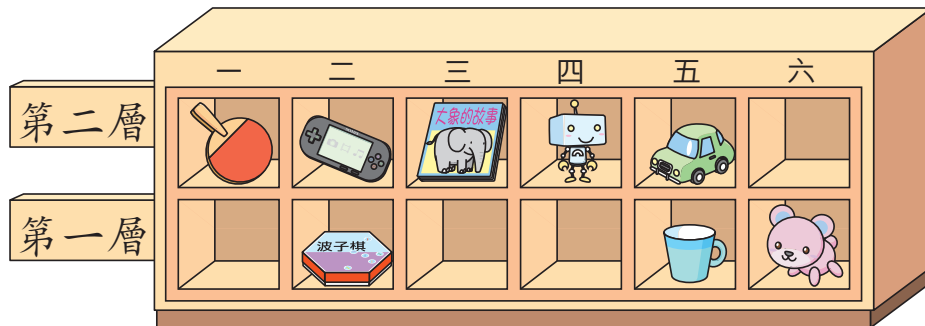


完成下列各題。




12. 爸爸在 12 樓，他往 * 上 / 下 走 _____ 層，便到 17 樓。


* 圈出答案

13. 陳 老師將不同的物件放在櫃內。



(a)  放在第 _____ 層的第 _____ 格。

(b) 陳 老師把  放在  的下面。由左面數起， 是第 _____ 層的第 _____ 件物件。



和 之間的距離約是 _____ 個 。

依指示圈出適當的物件。

1. 較厚的

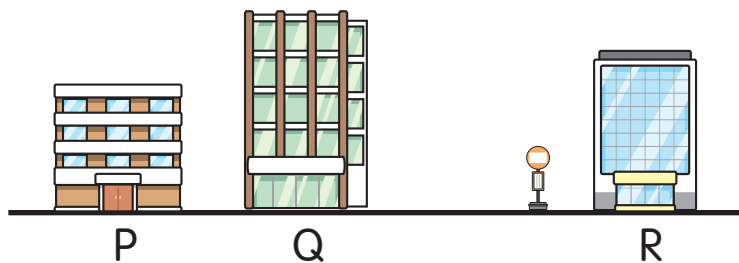


2. 最高的



完成下列各題。

3.



把上圖中的三幢大廈和 之間的距離由近至遠排列起來。

由近至遠排列：大廈 _____，大廈 _____，大廈 _____

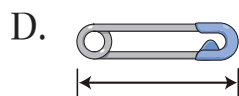
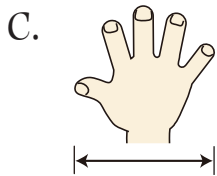
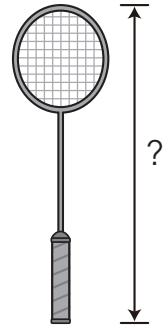
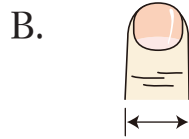
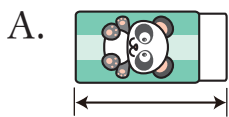


4. 比 高 2 枝 ， 比 矮 3 枝 。

* / / 最高。 * 圈出答案

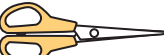

🦷 在  內填上答案的代表字母。

👑 5. 以下哪一項最適合用來量度一塊羽毛球拍的長度？



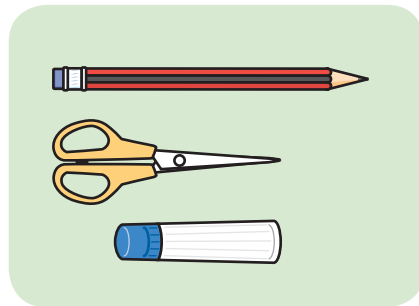
6. 看看右圖，以下哪一項是不正確的？

A.  最長。

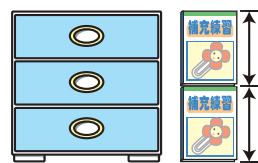
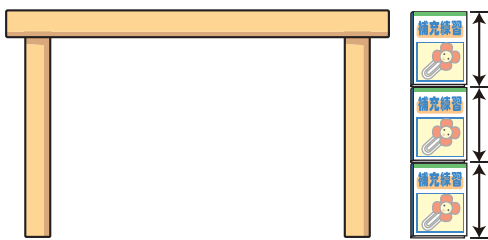
B.  比  長。

C.  比  短。

D.  最短。



🦷 文文用  量度桌子和櫃子的高度。



7.  比  * 高 / 矮 _____ 本  。

*** 圈出答案**

🏆 8. 文文改用  量度桌子的高度，量得高 4 本  。

 的長度比  的 * 長 / 短。

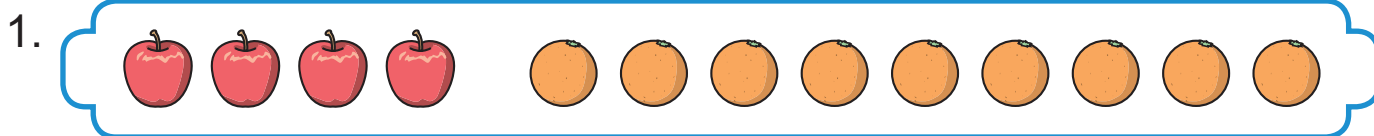
*** 圈出答案**



總複習

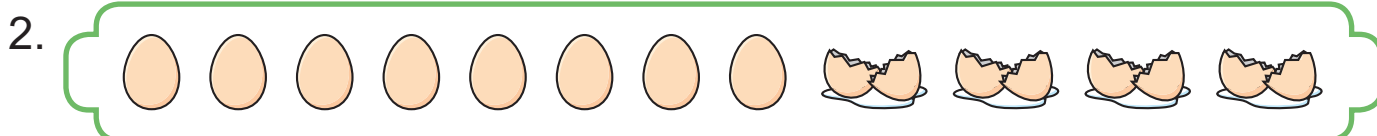
標本

依圖意，填一填。




共有水果 _____ 個。

$$\square \bigcirc \square = \square$$



還有 _____ 隻。

$$\square \bigcirc \square = \square$$



比 多 _____ 個。

$$\square \bigcirc \square = \square$$

在 \square 內填上適當的數。

4. $3 + 5 = 5 + \square = \square$

5. $9 + \square = 8 + 9 = \square$

6. $7 + \square = \square + 7 = 13$

7. $\square + 9 = 9 + \square = 11$

依指示排列以下各組數。

8. 7, 18, 2, 11, 14, 9 由大至小排列： _____

9. 13, 6, 17, 3, 12, 4 由小至大排列： _____

日期：_____

分數：_____

算一算。

10. $16 - 9 =$ _____

11. $8 + 4 =$ _____

🔄 12. _____ $+ 6 = 6$

🔄 13. $13 -$ _____ $= 8$

🔄 14. $9 +$ _____ $= 18$

🔄 15. $4 -$ _____ $= 0$

在 ◈ 內填上適當的數，並在 ○ 內填上 + 或 -。

16. - 9

17 $\overset{\curvearrowright}{\longleftarrow}$ ◈





○ ◈

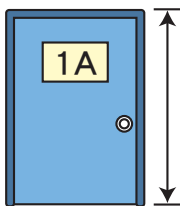



17. - 7

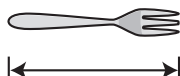
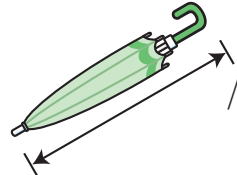

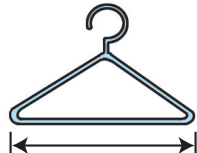
◈ $\overset{\curvearrowright}{\longrightarrow}$ 7

○ ◈

圈出最適合用來量度左面物件的量度工具。

18.  ( /  / )

19.  ( /  / )

20.  ( /  / )


數學競技場



標本

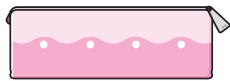
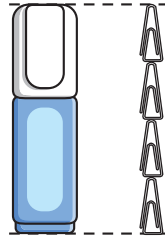
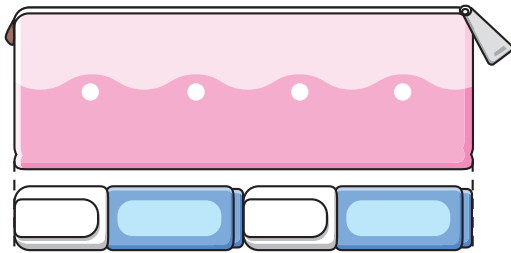
1. 下圖是晶晶和小文共有的糖果數量。晶晶把 4 粒糖果送給小文後，兩人便有相同數量的糖果。

晶晶原有  _____ 粒，



小文原有  _____ 粒。

2.



比  * 長 / 短 _____ 個 。

* 圈出答案

3. 依指示，把小芝、小光、小文、小冰和小芳按次序排列起來。

- ① 小芝在小文的前面，但在小冰的後面。
- ② 小光在小冰的後面，但在小芝的前面。
- ③ 小芳在小光的後面，但在小文的前面。
- ④ 小芝不是排第三。

答案：_____， _____， _____， _____， _____
 (第一) _____ (第五)



中英對照詞彙表

樣本

中文	英文	頁碼
數數	counting	2
順數	counting on	4
倒數	counting back	4
單數	odd number	6
雙數	even number	6
組合	composition	8
和	and	8
取去	less	8
加法	addition	12
加	plus	12
減法	subtraction	14
減	minus	14
立體圖形	3-D shape	18
柱體	prism	18
球體	sphere	18
錐體	pyramid	18
規律	pattern	24
次序	order	30