







目錄



1	五位數	2
2	加法 (一)	4
3	加法 (二)	6
4	減法 (一)	8
複習 (一)		10
5	減法 (二)	12
6	毫米	14
7	公里	16
8	乘法 (一)	18
9	乘法 (二)	20
複習 (二)		22
10	乘法 (三)	24
11	除法 (一)	26
12	除法 (二)	28
13	除法 (三)	30
複習 (三)		32
14	秒的認識	34
15	報時	36
16	垂直線	38
17	平行線	40
18	平行四邊形	42
總複習		44
數學競技場	48
中英對照詞彙表	50





有蘋果 64 個，每 5 個裝成一袋，最多可裝成多少袋？

列式計算

可裝成：_____ ÷ _____ = _____ ... _____
 最多可裝成 _____ 袋。

(足夠 / 不足夠)
 裝成一袋。

解答除法應用題時，在計算完畢後，或須從計算結果總結出答案。




計算下列各題。


1.
$$\begin{array}{r} 4 \overline{) 53} \end{array}$$



2.
$$\begin{array}{r} 3 \overline{) 90} \end{array}$$



3.
$$\begin{array}{r} 16 \\ \square \overline{) 8\square} \\ \underline{\square} \\ 3\square \\ \underline{3\square} \\ 2 \end{array}$$



4. $42 \div 2 = \underline{\hspace{2cm}}$

5. $74 \div 3 = \underline{\hspace{2cm}}$

6. $69 \div 5 = \underline{\hspace{2cm}}$

7. $\underline{\hspace{2cm}} \div 7 = 12$

在 內填上答案的代表字母。

8. 以下哪一道算式的餘數和 $38 \div 3$ 的餘數相等？

- A. $46 \div 2$ B. $59 \div 5$ C. $73 \div 6$ D. $86 \div 4$




9. 在右面的算式中，如果 \star 、 \blacktriangle 和 \blacklozenge 都是 1 至 9 其中一個數字，以下哪一項是不正確的？

$$\star \div 2 = \blacktriangle \dots \blacklozenge$$

- A. \star 是一個單數。 B. \blacklozenge 是 1。
 C. \star 比 \blacktriangle 大。 D. \blacktriangle 比 2 大。





日期：_____

分數：_____

標本

在 _____ 上填上答案。

盒裝老婆餅

2個裝	\$12
4個裝	\$22
8個裝	\$40


10. 餅店有老婆餅 72 個，最多可售出盒裝老婆餅 _____ 盒。

11. 老師把 62 名童軍平均分成 5 組，如果把餘下的童軍以每組加進一人的方法分配，有 _____ 組沒有加進一人。


12. 哥哥有 97 元，如果每天用 _____ 元，足夠 _____ 天用，餘下 _____ 元。

列式計算下列各題。


13. 李太太購買了茶杯半打，付了 84 元，茶杯每個售多少元？



14. 把 55 公斤白米每 2 公斤裝成一袋，最多可裝成多少袋？



15. 美思把右圖的繩子平均分成若干段長度相同的小繩段，如果她剪了 3 刀，每段小繩段長多少厘米？





複習 (三)

🦷 計算下列各題。

1. $235 \times 9 =$ _____

2. $88 \div 8 =$ _____

3. $7 \times 124 =$ _____

4. $129 \div 5 =$ _____

5. $5 \times 765 =$ _____

6. $549 \div 3 =$ _____

🔄 7. _____ $\times 108 = 432$

🔄 8. _____ $\div 7 = 108 \dots 5$

🦷 在空格內填上正確的數字。

$$\begin{array}{r}
 23\boxed{} \\
 \times \quad 3 \\
 \hline
 \boxed{}\boxed{}8
 \end{array}$$

$$\begin{array}{r}
 \boxed{}\boxed{} \\
 9 \overline{) 6\boxed{}7} \\
 \underline{\boxed{}3} \\
 2\boxed{} \\
 \underline{2\boxed{}}
 \end{array}$$

🦷 回答下列各題。

11. 爸爸有的郵票數量是弟弟的 5 倍，如果爸爸有郵票 65 枚，弟弟有郵票多少枚？ _____ 枚

12. 每個紙箱最多可放水杯 9 個，現有水杯 578 個，最少要用多少個紙箱才可放入所有水杯？ _____ 個

13. 主題公園成人入場費每位 388 元，十二歲以下小童半價。何先生和太太帶同 2 名分別 7 歲和 9 歲的兒子到主題公園，共須付入場費多少元？ _____ 元

 在  內填上答案的代表字母。

14. 以下哪一道除式的餘數最大？

- A. $98 \div 8$ B. $47 \div 2$ C. $63 \div 5$ D. $84 \div 3$



15. 以下哪一款襪子平均每對的售價最便宜？

襪子	數量	總售價
A. P 款	5 對	\$160
B. Q 款	7 對	\$168
C. R 款	半打	\$150
D. S 款	8 對	\$188



16. 每個洋娃娃售 199 元，玩具店上午共售出洋娃娃 7 個，約收得多少元？

- A. 700 元 B. 1400 元 C. 2000 元 D. 2500 元



 列式計算下列各題。

17. 超級市場昨天售出汽水 632 罐，今天售出 132 盒六罐裝的汽水，今天共售出汽水多少罐？

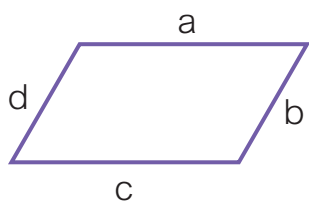


18. 2 箱芒果共有 68 個，售 204 元。媽媽、陳太太、張太太和黃太太合資購買 2 箱芒果，平均每人可分得芒果多少個？





下圖是一個平行四邊形，直線 a 的長度是 5 cm，直線 b 的長度是 3 cm。

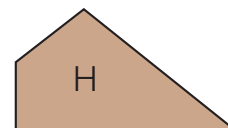
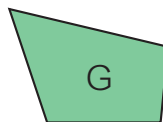
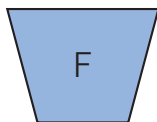
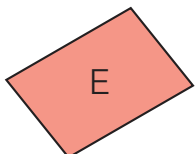
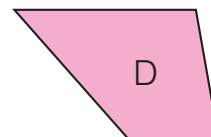
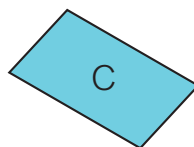
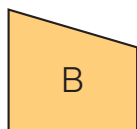



1. 直線 c 的長度是 _____ cm。
2. 直線 d 的長度是 _____ cm。
3. 直線 _____ 和直線 _____ 互相平行，
直線 _____ 和直線 _____ 互相平行。

平行四邊形的對邊平行，且對邊長度分別相等。

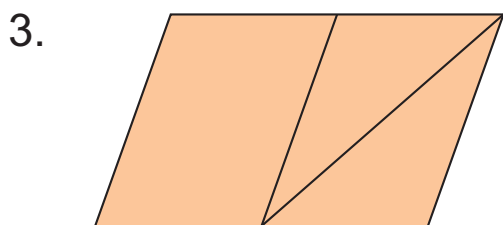


根據以下的四邊形，在 _____ 上填上答案的代表字母。

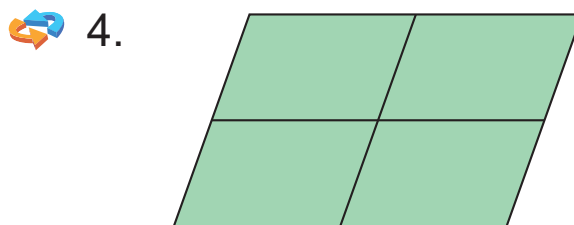


1. 列出有平行線的圖形：_____
2. 列出對邊平行及對邊長度分別相等的圖形：_____

在 _____ 上填上以下各圖中的平行四邊形的數量。



_____ 個



_____ 個

 在  內填上答案的代表字母。

5. 以下哪一/哪幾組長度可能是一個平行四邊形的四邊的長度？

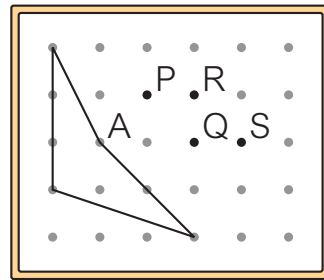
- I. 8 cm、12 cm、12 cm 和 80 mm
 II. 200 cm、5 m、2 m 和 500 mm
 III. 45 cm、10 cm、20 cm 和 450 mm
 IV. 30 mm、70 mm、3 cm 和 7 cm

- A. 只有 I 及 IV
 B. 只有 II 及 IV
 C. 只有 I、II 及 IV
 D. I、II、III 及 IV




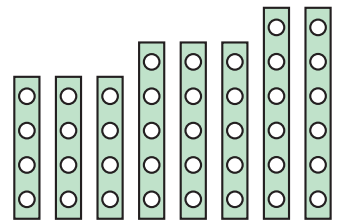
6. 右面的釘板圖上有一個用橡皮圈圍成的圖形，把橡皮圈由 A 點移到以下哪一點，可以使圖形變成一個平行四邊形？

- A. P 點
 B. Q 點
 C. R 點
 D. S 點

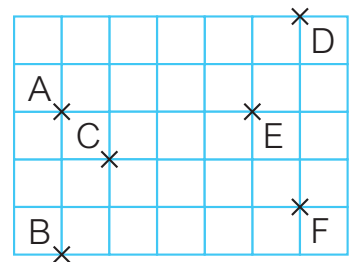



 在 _____ 上填上答案。

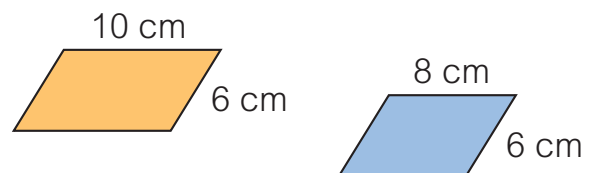
 7. 美兒有右面的幾何條，如果每次只用其中 4 條，分別可製作出 _____ 個不同的平行四邊形。



8. 在右面的方格紙上，用直線把 _____ 點、_____ 點、_____ 點和 _____ 點連起來，可以畫出一個平行四邊形。



 9. 右面兩個平行四邊形可拼成一個大平行四邊形，拼出的大平行四邊形的兩組對邊分別長 _____ cm 和 _____ cm。





總複習

🦷 計算下列各題。

1. $1867 + 2259 =$ _____

2. $5 \times 209 =$ _____

3. $659 \div 6 =$ _____

4. $5034 - 3847 =$ _____

🔄 5. _____ $\times 539 = 3234$

6. $2046 + 1139 + 876 =$ _____

🔄 7. _____ $\div 5 = 102$

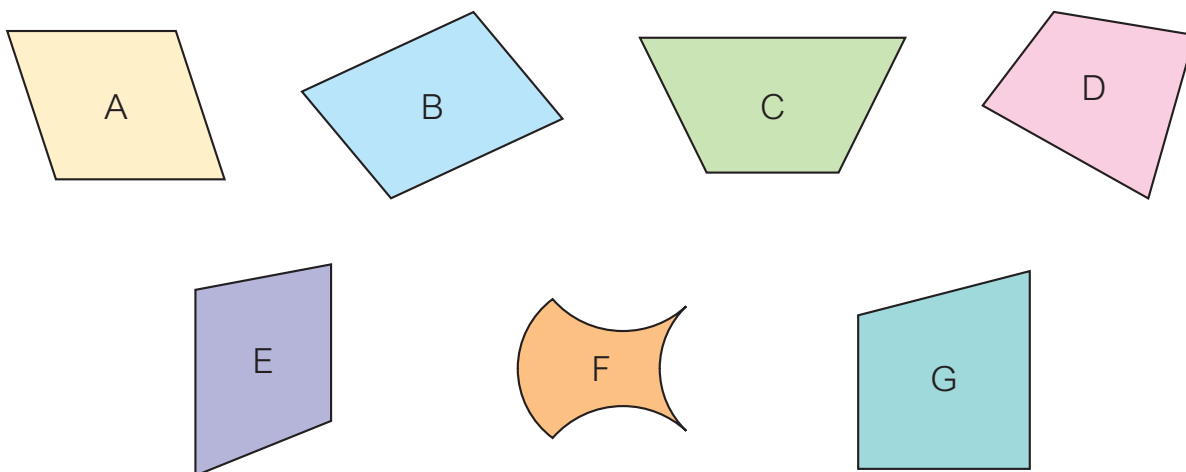
🔄 8. $3000 -$ _____ $- 1599 = 903$

🦷 媽媽有 4 張相同幣值的紙幣，共值 200 元。

9. 媽媽有 4 張 _____ 元紙幣。

10. 西餅每件售 8 元，媽媽用其中一張紙幣買了一些西餅，她最多買了西餅 _____ 件。

🦷 觀察下列各圖，在 _____ 上填上所有答案的代表字母。



11. 列出包含平行線的圖形：_____

12. 列出對邊平行，且對邊長度分別相等的圖形：_____

 下表記錄了麗麗時裝店在一月至三月的收入。

月份	一月	二月	三月
收入 (元)	30 500	35 500	35 050

13. 用中國數字寫出麗麗時裝店在一月至三月期間最高的收入。
_____ 元

14. 麗麗時裝店店主決定，如果某月的收入達三萬五千元或以上，職員便可得到獎金。在一月至三月期間，職員可在哪些月份得到獎金？

 在  內填上答案的代表字母。

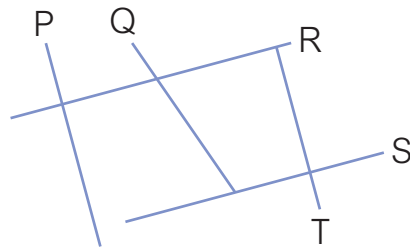
15. 社區中心現有包裝紙 40 張，每張包裝紙可包裝禮物 4 份，如果要包裝禮物 186 份送給小朋友，最少要多購買包裝紙多少張？

- A. 6 張 B. 7 張 C. 46 張 D. 47 張



16. 根據右圖，以下哪兩條直線不是互相垂直？

- A. 直線 P 和直線 R
B. 直線 R 和直線 T
C. 直線 Q 和直線 R
D. 直線 S 和直線 T



17. 小健在 15 星期內共練習跑步多少公里？

- A. 6 公里 B. 30 公里
C. 45 公里 D. 90 公里

我每星期練習跑步 2 次，每次跑 3 公里。



小健



數學競技場



標本

1. 用右面的五張數卡組成一個五位數，這個五位數各個數位上的數字之和是 30，這個五位數最小是 _____。



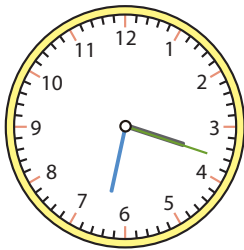
2.



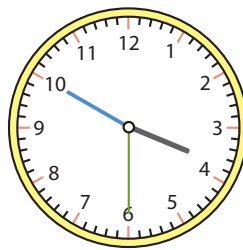
我在計算一道三位數乘以一位數的乘法，誤把乘數的 8 字看成 3 字，得出的積比正確的答案少了 1185。

正確的積應是 _____。

3. 小欣在焗製兩盤曲奇餅，焗製每盤的時間相同，並在焗製完第一盤後，立刻焗製第二盤。



開始



完成



- (a) 她焗製兩盤曲奇餅共用了 _____ 分鐘 _____ 秒。
(b) 她在 _____ 時 _____ 分 _____ 秒開始焗製第二盤曲奇餅。

4. 陳先生有的款項可在書店購買價值相同的小說 7 本，餘下 110 元，而購買 9 本則尚欠 290 元。一本小說的售價是 _____ 元。



中英對照詞彙表

樣本

中文	英文	頁碼
五位數	5-digit number	2
萬位	ten-thousands place	2
加法	addition	4
估算	estimation	4
減法	subtraction	8
長度	length	14
高度	height	14
毫米	millimetre	14
直尺	ruler	14
滾輪	trundle wheel	14
厘米	centimetre	14
距離	distance	15
米	metre	16
公里	kilometre	16
乘法	multiplication	18
被乘數	multiplicand	20
乘數	multiplier	20
積	product	20